

ИД-0305

Школьный этап

Всероссийской олимпиады школьников по Истории

2022 – 2023 учебного года

ученика (цы) 7^б класса

МБОУ «Струновская СОШ»

(наименование ОУ)

Борисовский район
(город, район)

Полочанин Иван Владимирович
(фамилия, имя, отчество в родительном падеже)

К олимпиаде подготовил (а)

Ишда Наталья Петровна
(фамилия, имя, отчество учителя)



ВСЕРОССИЙСКАЯ ОЛИМПИАДА ШКОЛЬНИКОВ 2022/23 гг.
ШКОЛЬНЫЙ ЭТАП
ИСТОРИЯ
7 КЛАСС

Задания для обучающихся. Время выполнения - 60 мин.
Максимальный балл - 100

Задание 1. Выберите один правильный ответ в каждом задании. Ответы внесите в таблицу.

За каждый правильный ответ – 1 балл.

Максимальный балл за задание – 4.

1.1. Прочтите отрывок и укажите произведение, фрагментом которого он является:

В домовитом обиходе и везде всякому человеку государю или государыни или сыну или дочери или службе мужеска полу, и женьска и стару и малу всякое дело начати или рукоделничати, или ести или пити или ества варити или печи што и всякие приспехи делати и всякое рукоделие и всякое мастерство, и устроив себя очистив от всякия скверны и руки умыв чисто преже святым поклоняться в землю а по нужи или до пояса кто умеете достойно, проговорити да благословясь у настоящего да молитву Исусову проговоря

1) «Часословец» 2) «Домострой» 3) «О вкусной и здоровой пище» 4) «Поучение детям»

1.2. Прочтите отрывок из источника и укажите, с каким событием он связан:

«и побели Щелкан Дюденевиць на сени, и зажгоша под ним сени и двор весь... и ту сгоре Щелкан и с прочими... И гостей ординских старых и новопришедших, иже с Щелканом Дюденевичем пришли, аще и не бишася, но всея изсекоша, а иных истопиша, а иных в костры дров складше сожгоша»

1) Разорение Рязани войсками Батыея 2) Куликовская битва 3) Тверское восстание 1327 года 4) Стояние на реке Угре

1.3. Укажите имя первого российского патриарха:

1) Гермоген 2) Иов 3) Илларион 4) Тихон

1.4. К периоду правления Михаила Федоровича относится:

1) Церковный раскол 2) Восстание И. Болотникова 3) Издание первого судебника 4) Деулинское перемирие

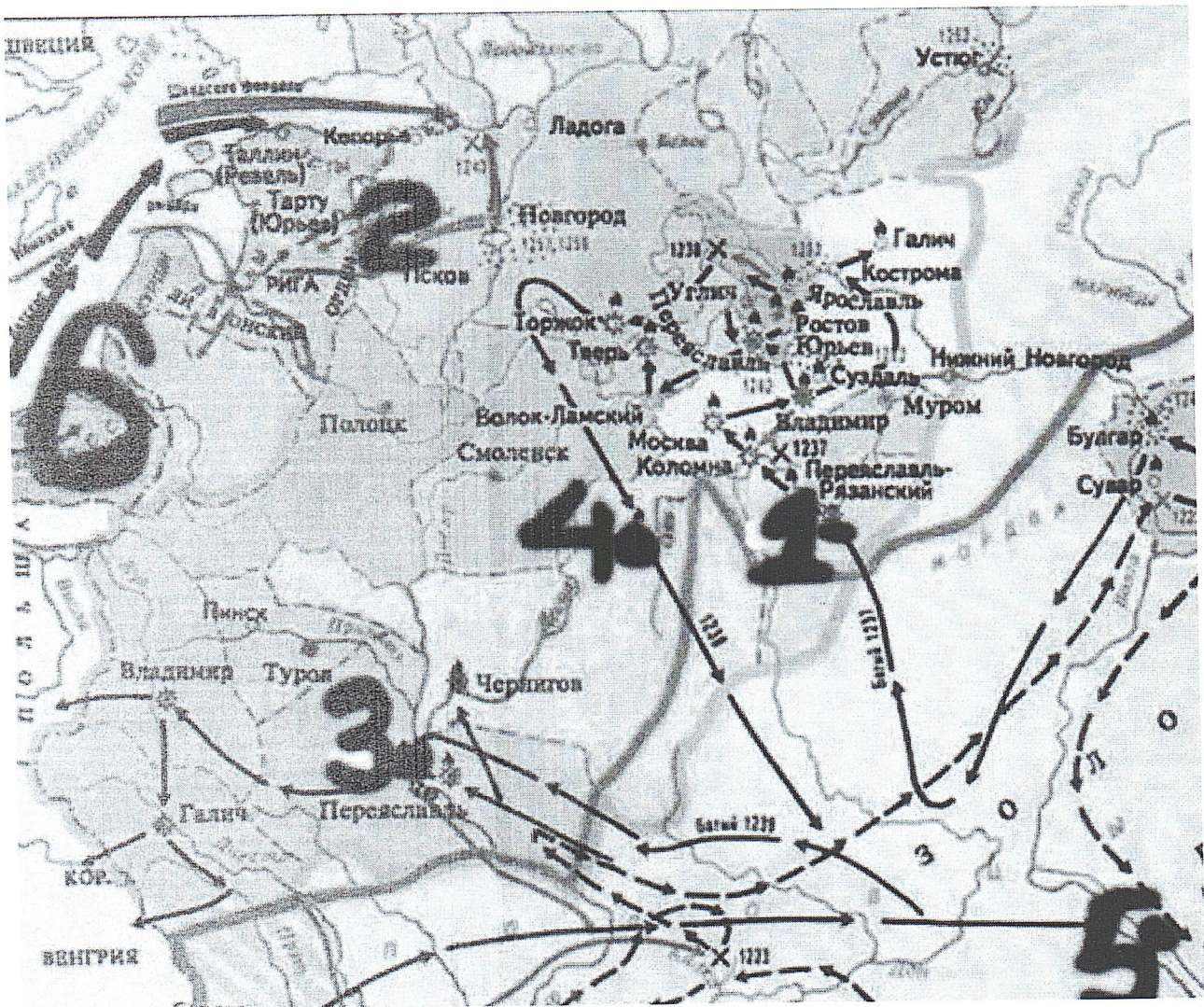
1.1	1.2	1.3	1.4
3 -	4 2 -	4 2 +	4 +

25



ВСЕРОССИЙСКАЯ ОЛИМПИАДА ШКОЛЬНИКОВ 2022/23 гг.
ШКОЛЬНЫЙ ЭТАП
ИСТОРИЯ
7 КЛАСС

Задание 2. Внимательно рассмотрите карту и выполните задания, внося ответы в таблицу (2 балла за каждый правильный ответ, максимальный балл за задание – 18).



1. Какой период отечественной истории характеризует данная карта.
2. Какой русский город был первым захвачен в ходе данных событий (цифра 1)
3. Какой географический объект расположен под цифрой 2.
4. Назовите имя князя, назовите имя князя, принимавшего участие в битве при объекте под цифрой 2.
5. Назовите город под цифрой 3.
6. Этот город (цифра 4) получил название у завоевателей «злой город»
7. Назовите город под цифрой 5 – столицу завоевателей.



ВСЕРОССИЙСКАЯ ОЛИМПИАДА ШКОЛЬНИКОВ 2022/23 гг.
ШКОЛЬНЫЙ ЭТАП
ИСТОРИЯ
7 КЛАСС

8. Какой религиозно-политический орден находился на территориях под цифрой 6?
9. Назовите имя деда хана-завоевателя, который участвовал в событиях, обозначенных на карте.

1. <i>Первоз, когда ^{какая ко. Туль} Момолия +</i>	4. <i>Меврикый +</i>	7. <i>Дуома -</i>
2. <i>Куома +</i>	5. <i>Фериллаб -</i>	8. <i>Тевонеситий ордн +</i>
3. <i>Фемоб -</i>	6. <i>Корлык +</i>	9. <i>Митиома +</i>

125

Задание 3. Расположите события в хронологической последовательности. Ответы запишите в таблицу. Максимальный балл за задание – 6.

- А) нормандское завоевание Англии
- Б) образование Хазарского каганата
- В) созыв Генеральных штатов во Франции
- Г) Ледовое побоище
- Д) завершение Реконквисты на Пиренейском полуострове
- Е) поход Тамерлана на Золотую Орду

1	2	3	4	5	6
<i>A</i>	<i>B</i>	<i>Б</i>	<i>Г</i>	<i>E</i>	<i>Д</i>

08.

Задание 4. Соотнесите князей с прозвищами, под которыми они вошли в историю. Каждый правильный ответ – 1 балл. Максимальный балл за задание – 5.

А) Всеволод Юрьевич	1) Мудрый
Б) Ярослав Владимирович	2) Темный
В) Симеон Иванович	3) Великий
Г) Мстислав Владимирович	4) Большое Гнездо
Д) Василий Васильевич	5) Гордый



ВСЕРОССИЙСКАЯ ОЛИМПИАДА ШКОЛЬНИКОВ 2022/23 гг.
ШКОЛЬНЫЙ ЭТАП
ИСТОРИЯ
7 КЛАСС

А	Б	В	Г	Д
4 +	7 +	5 +	2 -	3 -

30

Задание 5. Найдите в каждой строчке лишнее слово, подчеркните его и объясните, почему это слово является лишним. Каждый правильный ответ – 1 балл, за правильное объяснение – 2 балла. Максимальный балл за задание – 12.

Анжы – баксы – бритты – остготы – вандалы – бургунды

Бриттия

10

Барон – дофин – граф – рыцарь – герцог – маркиз

Нормандия – Бургундия – Флоренция – Аквитания – Шампань – Тулуза

Флоренция – граф Италия

30

Бенедиктинцы – клюнийцы – тамплиеры – францисканцы – доминиканцы

Задание 6. Установите соответствия. Запишите в таблицу выбранные цифры под соответствующими буквами. Каждый правильный ответ – 1 балл. Максимальный балл за задание – 15.

6.1. Соотнесите событие и дату

А. Отмена местничества	1. 1590 г.
Б. Битва на Калке	2. 1612 г.



ВСЕРОССИЙСКАЯ ОЛИМПИАДА ШКОЛЬНИКОВ 2022/23 гг.
ШКОЛЬНЫЙ ЭТАП
ИСТОРИЯ
7 КЛАСС

В. Созыв первого Земского Собора	3. 1682 г.
Г. Основание Саратова	4. 1549 г.
Д. Освобождение Москвы от Поляков	5. 1437 г.
	6. 1223 г.

6.2. Соотнесите событие и его современника:

А. Осада Пскова Стефаном Баторием	1. Патриарх Никон
Б. Стояние на р. Угре	2. Даниил Галицкий
В. Медный бунт	3. князь Григорий Засекин
Г. Сожжение Батыем Рязани	4. Иван Калита
Д. Создание «Божественной комедии» Данте	5. Юрий Долгорукий
	6. Иосиф Волоцкий

6.3. Соотнесите высказывание с именем исторического деятеля:

А. «Молод, разумом еще не дошел, и нам будет поваден»	1. М.Лютер в Вормсе
Б. «Разбита и развеяна по всем румбам»	2. Бояре о Михаиле Романове
В. «На том стою. И не могу иначе»	3. Митрополит Кирилл после смерти Александра Невского
Г. «Не понимаю, как мои предки могли допустить такое учреждение»	4. Ф. Дрейк о гибели «Непобедимой армады»
Д. «Знайте, чада моя, яко уже зашло солнце земли Суздальской. Не будет больше такого князя в Русской земле»	5. Патриарх Никон во время суда на Вселенском соборе
	6. Яков I Стюарт после роспуска парламента

№	А	Б	В	Г	Д
5.1	5	6 +	3	4	2 +
5.2	2 -	6 +	1 +	5	4 +
5.3	2 +	26	5	6 +	3 +

Задание 7. Восстановите хронологическую последовательность событий.
Максимальный балл за задание – 12.

1. Присоединение Пскова
2. Смерть царевича Дмитрия



ВСЕРОССИЙСКАЯ ОЛИМПИАДА ШКОЛЬНИКОВ 2022/23 гг.
ШКОЛЬНЫЙ ЭТАП
ИСТОРИЯ
7 КЛАСС

3. Увеличена плата за «пожилое» в Юрьев день
4. Учреждение опричнины
5. Унификация денежной системы, введение московской копейки.
6. Сожжение Девлет-Гирея московского посада

1 +	3 -	5 -	7 +	6 +	2 +
-----	-----	-----	-----	-----	-----

60

Задание 8. Запишите определения исторических понятий. Максимальный балл за задание – 12.

1. Земский собор -

орган, который решает дела государства 20.

2. Сословие -

класс людей объединяемых 10

3. Ополчение -

класс добровольцев в войну 05

4. Поместье -

двор купцов и боярских людей, которые получают за службу 20.

50

Задание 9. Что объединяет понятия и имена, образующие каждый из представленных рядов? Дайте краткий ответ. Каждый правильный ответ – 2 балла. Максимальный балл за задание – 6.

9.1. «Судебник 1497 г.», «Судебник 1550 г.», «Соборное Уложение 1649 г.»

законы 2

9.2. Батый, Узбек, Ахмат

Монголы Тюркские народы Золотой Орда 2

9.3. Григорий Отрепьев, Михаил Молчанов, вор Сидорка (Матюшка с Язуы)

45



ВСЕРОССИЙСКАЯ ОЛИМПИАДА ШКОЛЬНИКОВ 2022/23 гг.
ШКОЛЬНЫЙ ЭТАП
ИСТОРИЯ
7 КЛАСС

Задание 10. Установите соответствие между названиями религиозных сооружений города Омска и их изображениями. Запишите в таблицу выбранные цифры под соответствующими буквами. Максимальный балл за задание – 10.

1. Крестовоздвиженский собор.
2. Синагога
3. Сибирская Соборная мечеть
4. Собор Николая Чудотворца.
5. Римско-католический костёл




А)




Б)




ВСЕРОССИЙСКАЯ ОЛИМПИАДА ШКОЛЬНИКОВ 2022/23 ГГ.
ШКОЛЬНЫЙ ЭТАП
ИСТОРИЯ
7 КЛАСС



В)



Г)



Д)

1	2	3	4	5
А	В +	А +	К +	В +

80.

Итого: 52 балла
Число ошибок:

Михаил А. Ш. Шилова
Анна А. М. Крайнова
Анна О. Т. Локвищенко